



Bac S 2015 – Métropole - Correction épreuve de mathématiques.

Exercice 1 : 6 points – Commun à tous les candidats

Les résultats des probabilités seront arrondis à 10^{-3} près.

Partie 1 :

1°) Soit X une variable aléatoire qui suit une loi exponentielle de paramètre λ , où λ est un réel strictement positif donné.

On rappelle que la densité de probabilité de cette loi est la fonction f définie sur $[0; +\infty[$ par $f(x) = \lambda e^{-\lambda x}$.

a) Soit c et d deux réels tels que $0 \leq c < d$.

Démontrer que la probabilité $P(c \leq X \leq d)$ vérifie $P(c \leq X \leq d) = e^{-\lambda c} - e^{-\lambda d}$.

b) Déterminer une valeur de λ à 10^{-3} près de telle sorte que la probabilité $P(X > 20)$ soit égale à 0,05.

c) Donner l'espérance de la variable aléatoire X .

Dans la suite de l'exercice on prend $\lambda = 0,15$.

d) Calculer $P(10 \leq X \leq 20)$.

e) Calculer la probabilité de l'événement $(X > 18)$

2°) Soit Y une variable aléatoire qui suit la loi normale d'espérance 16 et d'écart type 1,95.

a) Calculer la probabilité de l'événement $(20 \leq Y \leq 21)$

b) Calculer la probabilité de l'événement $(Y < 11) \cup (Y > 21)$



Partie 2

Une chaîne de magasin souhaite fidéliser ses clients en offrant des bons d'achat à ses clients privilégiés. Chacun d'eux reçoit un bon d'achat de couleur verte ou rouge sur lequel est inscrit un montant.

Les bons d'achats sont distribués de façon à avoir, dans chaque magasin, un quart de bons rouges et trois quarts de bons verts.

Les bons d'achat verts prennent la valeur de 30 euros avec une probabilité égale à 0,067 ou des valeurs comprises entre 0 et 15 euros avec des probabilités non précisées ici.

De façon analogue, les bons d'achat rouges prennent les valeurs 30 ou 100 euros avec des probabilités respectivement égales à 0,015 et 0,010 ou des valeurs comprises entre 10 et 20 euros avec des probabilités non précisées ici.

1°) Calculer la probabilité d'avoir un bon d'achat d'une valeur supérieure ou égale à 30 euros sachant qu'il est rouge.

2°) Montrer qu'une valeur approchée à 10^{-3} près de la probabilité d'avoir un bon d'achat d'une valeur supérieure ou égale à 30 euros vaut 0,057.

Pour la question suivante, on utilise cette valeur.

3°) Dans un des magasins de cette chaîne, sur 200 clients privilégiés, 6 ont reçu un bon d'achat d'une valeur supérieure ou égale à 30€.

Le directeur du magasin considéré estime que ce nombre est insuffisant et doute de la répartition au hasard des bons d'achats dans les différents magasins de la chaîne.

Ses doutes sont-ils justifiés ?



CORRECTION

Les résultats des probabilités seront arrondis à 10^{-3} près.

Partie 1 :

1°) Soit X une variable aléatoire qui suit une loi exponentielle de paramètre λ , où λ est un réel strictement positif donné.

a) Soit c et d deux réels tels que $0 \leq c < d$.

Démontrer que la probabilité $P(c \leq X \leq d)$ vérifie $P(c \leq X \leq d) = e^{-\lambda c} - e^{-\lambda d}$.

D'après le cours,

$$P(c \leq X \leq d) = \int_c^d \lambda e^{-\lambda x} dx = [-e^{-\lambda x}]_c^d = -e^{-\lambda d} - (-e^{-\lambda c}) = e^{-\lambda c} - e^{-\lambda d}$$

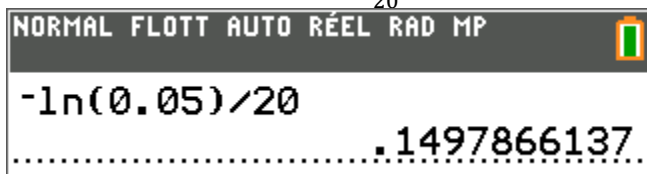
b) Déterminer une valeur de λ à 10^{-3} près de telle sorte que la probabilité $P(X > 20)$ soit égale à 0,05.

$$P(X > 20) = 1 - P(X \leq 20) = 1 - P(0 \leq X \leq 20) = 1 - (e^{-0} - e^{-20\lambda}) \text{ d'après a)}$$

$$\text{Ainsi } P(X > 20) = e^{-20\lambda} \text{ d'après a)}$$

Cherchons λ tel que $P(X > 20) = 0,05 \Leftrightarrow e^{-20\lambda} = 0,05 \Leftrightarrow -20\lambda = \ln(0,05)$ car les deux membres sont positifs stricts.

$$\text{Ainsi on obtient } \lambda = -\ln \frac{(0,05)}{20}$$



Ce qui nous donne $\lambda = 0,150$ à 10^{-3} près.



c) Donner l'espérance de la variable aléatoire X .

D'après le cours $E(X) = \frac{1}{\lambda} = 6,676$ à 10^{-3} près.

```
1/(-ln(0.05)/20)
.....6.676164014
```

Dans la suite de l'exercice on prend $\lambda = 0,15$.

d) Calculer $P(10 \leq X \leq 20)$.

En utilisant le résultat du a) on obtient :

$$P(10 \leq X \leq 20) = e^{-10 \times 0,15} - e^{-20 \times 0,15}$$

```
NORMAL FLOTT AUTO RÉEL RAD MP
e^-10*0.15 - e^-20*0.15
......1733430918
```

Ainsi $P(10 \leq X \leq 20) = 0,173$ à 10^{-3} près.

e) Calculer la probabilité de l'événement $(X > 18)$

$$P(X > 18) = 1 - P(X \leq 18) = 1 - P(0 \leq X \leq 18) = 1 - (e^{-0} - e^{-18 \times 0,15}) = e^{-18 \times 0,15} \text{ d'après a)}$$

Ainsi $P(X > 18) = 0,067$ à 10^{-3} près.

```
e^-18*0.15
......0672055127
```



2°) Soit Y une variable aléatoire qui suit la loi normale d'espérance 16 et d'écart type 1,95.

a) Calculer la probabilité de l'événement $(20 \leq Y \leq 21)$

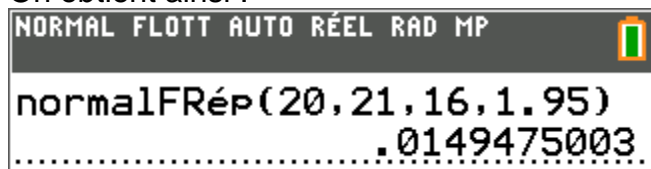
Utilisons la TI83 Premium pour effectuer ce calcul :

Appuyons sur   puis choisissons 

On complète la boîte de dialogue :



On obtient ainsi :



Conclusion : $P(20 \leq Y \leq 21) = 0,015$ à 10^{-3} près.

b) Calculer la probabilité de l'événement $(Y < 11) \cup (Y > 21)$

$$P(Y < 11) \cup (Y > 21) = P(Y < 11) + P(Y > 21)$$

Calculons $P(Y < 11)$ en utilisant notre TI83 Premium :

Appuyons sur   puis choisissons 



On complète la boîte de dialogue :

```
NORMAL FLOTT AUTO RÉEL RAD MP
normalFRép
borninf: -10^99
bornsup: 11
μ: 16
σ: 1.95
Coller
```

On obtient ainsi :

```
normalFRép(-10^99, 11, 16, 1.95)
.0051721758
```

Ce qui nous donne : $P(Y < 11) = 0,005$ à 10^{-3} près.

Calculons $P(Y > 21)$ en utilisant notre TI83 Premium :

Appuyons sur   puis choisissons  normalFRép(

On complète la boîte de dialogue :

```
NORMAL FLOTT AUTO RÉEL RAD MP
normalFRép
borninf: 21
bornsup: 10^99
μ: 16
σ: 1.95
Coller
```



On obtient ainsi :

```
normalFRép(21,1099,16,1.95)  
.....0051721758
```

Ce qui nous donne : $P(Y > 21) = 0,005$ à 10^{-3} près.

Ainsi $P(Y < 11) \cup (Y > 21) = 0,005 + 0,005 = 0,010$ à 10^{-3} près.

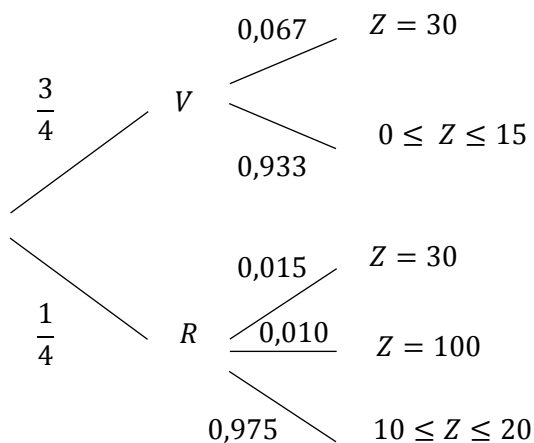
Partie 2

1°) Calculer la probabilité d'avoir un bon d'achat d'une valeur supérieure ou égale à 30 euros sachant qu'il est rouge.

Soit Z la variable aléatoire qui correspond à la valeur du bon d'achat.

Notons R l'événement « Le bon d'achat est rouge » et V : « le bon d'achat est vert ».

D'après l'énoncé on peut construire l'arbre suivant :



Ainsi $P_R(Z \geq 30) = P_R(Z = 30) + P_R(Z = 100) = 0,025$



2°) Montrer qu'une valeur approchée à 10^{-3} près de la probabilité d'avoir un bon d'achat d'une valeur supérieure ou égale à 30 euros vaut 0,057.
Pour la question suivante, on utilise cette valeur.

Ainsi d'après l'arbre $P(Z \geq 30) = 0,067 \times \frac{3}{4} + 0,015 \times \frac{1}{4} + 0,010 \times \frac{1}{4} = 0,057$ à 10^{-3} près.

NORMAL FLOTT AUTO RÉEL RAD MP

$$0.067 * \frac{3}{4} + 0.015 * \frac{1}{4} + 0.010 * \frac{1}{4}$$

.....

$$.0565$$

3°) Dans un des magasins de cette chaîne, sur 200 clients privilégiés, 6 ont reçu un bon d'achat d'une valeur supérieure ou égale à 30€.
Le directeur du magasin considéré estime que ce nombre est insuffisant et doute de la répartition au hasard des bons d'achats dans les différents magasins de la chaîne.
Ses doutes sont-ils justifiés ?

Soit X' la variable aléatoire correspondant au nombre de bon d'achat d'une valeur supérieure ou égale à 30€ sur ces 200 clients.

X' suit une loi binomiale de paramètre $n = 200$ et $p = 0,057$.

Dans notre échantillon, nous avons $f = \frac{6}{200} = 0,03$.

D'après le cours, l'intervalle de fluctuation de X' au niveau de confiance de 95% est :

$$\left[p - 1,96 \frac{\sqrt{p(1-p)}}{\sqrt{n}}; p + 1,96 \frac{\sqrt{p(1-p)}}{\sqrt{n}} \right] = [0,024; 0,090] \text{ à } 10^{-3} \text{ près}$$

NORMAL FLOTT AUTO RÉEL RAD MP

$$0.057 - 1.96 * \frac{\sqrt{0.057 * 0.943}}{\sqrt{200}}$$

.....

$$.0248682523$$

$$0.057 + 1.96 * \frac{\sqrt{0.057 * 0.943}}{\sqrt{200}}$$

.....

$$.0891317477$$

$f = 0,03$ appartient bien à cet intervalle, les doutes du directeur du magasin ne sont pas justifiés.